

① 右の地図を見て、つぎの問いに答えよ。

(1) つぎの文の()からあてはまる語句を選び、記号で答えよ。

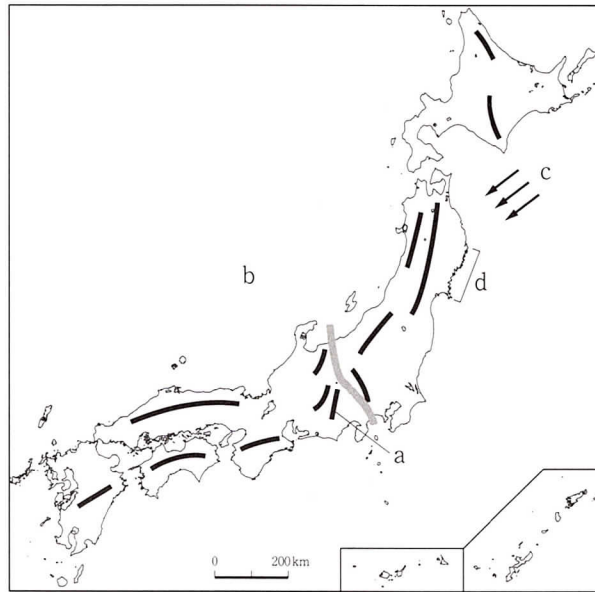
日本は山地が多く、国土の①(ア4分の3 イ2分の1)を占めている。また、日本の川は、世界の川と比較すると、②(ア長くて緩やか イ短くて急)である。日本の周囲には4つの大きな海流が流れており、太平洋側を流れる暖流の③(ア黒潮 イ親潮 ウ対馬海流)と、寒流の④(ア黒潮 イリマン海流 ウ親潮)がぶつかる海域は、好漁場となっている。

(2) 地図中のaの山脈は日本アルプスとよばれる山脈のひとつである。山脈名を答えよ。

(3) bは日本の中央にあり、地形上東日本と西日本を分けている。この境目を何とよぶか。カタカナ7字で書け。

(4) cは、冷たい東北風で、沿岸部に冷害をおこし、農作物に被害を出すことがある。この風は何とよばれるか。

(5) dの海岸は、入り組んだ複雑な海岸線を持つ地形である。このような地形を何とよぶか。



① 【各6 — 48点】

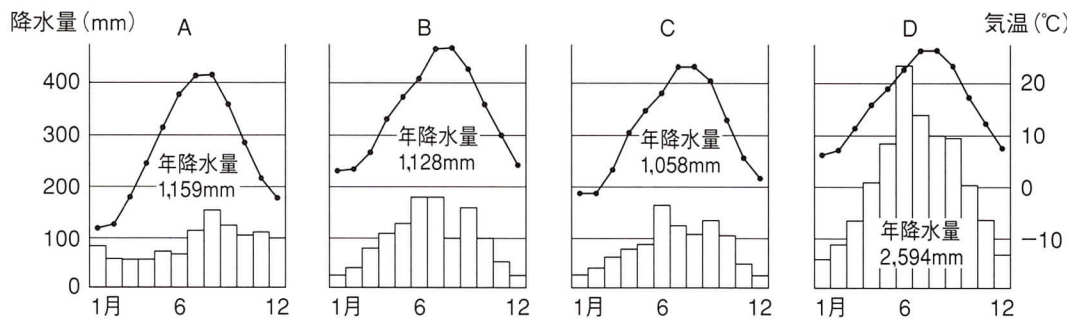
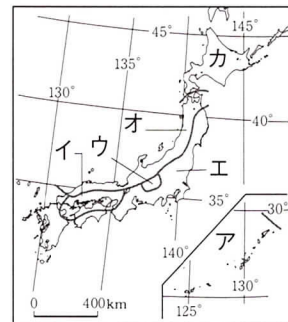
(1)	①	
	②	
	③	
	④	
(2)	山脈	
(3)		
(4)		
(5)		

② 右の地図を見て、つぎの問いに答えよ。

(1) つぎの文にあてはまる気候の地域を、地図中から選んで答えよ。

- ① 冬に北西の季節風が日本海の湿気をふくんでふきこみ、山地にあたって大雪を降らせる。
- ② 周囲を山地に囲まれ、降水量は少なく、晴天の日が多い。盆地では冬と夏の気温の差が大きい。
- ③ 冬の寒さは厳しく、夏は濃霧のため低温となる。春先には北の海岸に流水が見られる。

(2) 上の③地区の気候のグラフを、下のA～Dから選べ。



② 【各6 — 24点】

(1)	①	
	②	
	③	
(2)		

③ 右の地図を見て、つぎの問いに答えよ。

(1) 右の地図は、縮尺5万分の1でえがかれている。実際の距離が1kmのとき、地図上では何cmで表されるか。

(2) 同じ高さのところを結んだ線のことを何というか。

(3) この地図で高さ20mおきに結んだ線を何曲線というか。

(4) 地図の地域の土地はおもに何に利用されているか。

(5) B川は、どちらの方角に向かって流れているか。16方位で答えよ。

(6) A地点から見て、西に500mの地点にあるのは何か。つぎのア～オから一つ選び、記号で答えよ。

- ア 消防署 イ 小・中学校 ウ 病院
- エ 神社 オ 郵便局

(7) 地図に示されるような、川が山地から平地に出るところに土砂がたい積してつくられる、ゆるやかな傾斜地を何というか。漢字3字で書け。



③ 【各4 — 28点】

(1)	cm
(2)	
(3)	
(4)	
(5)	
(6)	
(7)	